

1- En recherchant sur internet (ou dans les documents ressources) indique « à quoi sert l'indice réparabilité » : _____

2- En recherchant sur internet (ou dans les documents ressources) indique quelles catégories d'appareils sont concernées par l'indice de réparabilité : _____

3- En recherchant sur internet (ou dans les documents ressources) explique pourquoi (en quoi) :

- la durée de disponibilité de la documentation technique, d'utilisation et d'entretien augmente (influe sur) la réparabilité d'un objet : _____

- la durée de démontabilité, l'accès, le type d'outils et de fixations utilisés augmentent (influent sur) la réparabilité d'un objet : _____

- la durée de disponibilité et le délai de livraison des pièces détachées augmentent (influent sur) la réparabilité d'un objet : _____

- la rapport entre le prix des pièces détachées et le prix de l'objet neuf augmente (influe sur) la réparabilité d'un objet : _____

4- A l'aide de la fiche d'information du calcul de l'indice de réparabilité, reporter ci-contre les notes /20 des différents critères

5- Calculer et reporter l'indice de réparabilité ainsi obtenu /10

6- Reporter au bon endroit (à la bonne couleur) l'indice de réparabilité ainsi obtenu

7- Animer les éléments de la question 4 pour présentation à l'oral



Neff S355HVX15

Télécharger le tableau des paramètres

Cet appareil obtient la note de /10

Documentation: /20



Démontabilité: /20



Disponibilité des pièces: /20



Prix des pièces: /20



Critère spécifique: /20



Neff



ACADÉMIE
D'AMIENS

Liberté
Égalité
Fraternité

Classe : _____ Grpe : _____

Question 6

Rouge :
0 à 1,9



Indice de réparabilité

Orange :
2 à 3,9



Indice de réparabilité

Jaune :
4 à 5,9



Indice de réparabilité

Vert clair :
6 à 7,9



Indice de réparabilité

Vert foncé :
8 à 10



Indice de réparabilité

Question 5

Question 4

1- En recherchant sur internet (ou dans les documents ressources) indique « à quoi sert l'indice réparabilité » : _____

2- En recherchant sur internet (ou dans les documents ressources) indique quelles catégories d'appareils sont concernées par l'indice de réparabilité : _____

3- En recherchant sur internet (ou dans les documents ressources) explique pourquoi (en quoi) :

- la durée de disponibilité de la documentation technique, d'utilisation et d'entretien augmente (influe sur) la réparabilité d'un objet : _____

- la durée de démontabilité, l'accès, le type d'outils et de fixations utilisés augmentent (influent sur) la réparabilité d'un objet : _____

- la durée de disponibilité et le délai de livraison des pièces détachées augmentent (influent sur) la réparabilité d'un objet : _____

- la rapport entre le prix des pièces détachées et le prix de l'objet neuf augmente (influe sur) la réparabilité d'un objet : _____

4- A l'aide de la fiche d'information du calcul de l'indice de réparabilité, reporter ci-contre les notes /20 des différents critères

5- Calculer et reporter l'indice de réparabilité ainsi obtenu /10

6- Reporter au bon endroit (à la bonne couleur) l'indice de réparabilité ainsi obtenu

7- Animer les éléments de la question 4 pour présentation à l'oral



Question 6

Rouge :
0 à 1,9

Indice de réparabilité

Orange :
2 à 3,9

Indice de réparabilité

Jaune :
4 à 5,9

Indice de réparabilité

Vert clair :
6 à 7,9

Indice de réparabilité

Vert foncé :
8 à 10

Indice de réparabilité

Samsung QE32LS03TCUXXC

Télécharger le tableau des paramètres

Cet appareil obtient la note de /10

Documentation: /20




Démontabilité: /20



Disponibilité des pièces: /20



Prix des pièces: /20



Critère spécifique: /20



Samsung

Question 5

Question 4

ACADÉMIE
D'AMIENSLiberté
Égalité
Fraternité

Classe : _____ Grpe : _____

1- En recherchant sur internet (ou dans les documents ressources) indique « à quoi sert l'indice réparabilité » : _____

2- En recherchant sur internet (ou dans les documents ressources) indique quelles catégories d'appareils sont concernées par l'indice de réparabilité : _____

3- En recherchant sur internet (ou dans les documents ressources) explique pourquoi (en quoi) :

- la durée de disponibilité de la documentation technique, d'utilisation et d'entretien augmente (influe sur) la réparabilité d'un objet : _____

- la durée de démontabilité, l'accès, le type d'outils et de fixations utilisés augmentent (influent sur) la réparabilité d'un objet : _____

- la durée de disponibilité et le délai de livraison des pièces détachées augmentent (influent sur) la réparabilité d'un objet : _____

- la rapport entre le prix des pièces détachées et le prix de l'objet neuf augmente (influe sur) la réparabilité d'un objet : _____

4- A l'aide de la fiche d'information du calcul de l'indice de réparabilité, reporter ci-contre les notes /20 des différents critères

5- Calculer et reporter l'indice de réparabilité ainsi obtenu /10

6- Reporter au bon endroit (à la bonne couleur) l'indice de réparabilité ainsi obtenu

7- Animer les éléments de la question 4 pour présentation à l'oral



Question 6

Rouge :
0 à 1,9

Indice de réparabilité

Orange :
2 à 3,9

Indice de réparabilité

Jaune :
4 à 5,9

Indice de réparabilité

Vert clair :
6 à 7,9

Indice de réparabilité

Vert foncé :
8 à 10

Indice de réparabilité

CANDY CST 26LE/1-47

↓ Télécharger le tableau des paramètres

Cet appareil obtient la note de /10Documentation: /20Démontabilité: /20Disponibilité des pièces: /20Prix des pièces: /20Critère spécifique: /20

CANDY

ACADÉMIE
D'AMIENSLiberté
Égalité
Fraternité

Question 4

Classe : _____ Grpe : _____

1- En recherchant sur internet (ou dans les documents ressources) indique « à quoi sert l'indice réparabilité » : _____

2- En recherchant sur internet (ou dans les documents ressources) indique quelles catégories d'appareils sont concernées par l'indice de réparabilité : _____

3- En recherchant sur internet (ou dans les documents ressources) explique pourquoi (en quoi) :

- la durée de disponibilité de la documentation technique, d'utilisation et d'entretien augmente (influe sur) la réparabilité d'un objet : _____

- la durée de démontabilité, l'accès, le type d'outils et de fixations utilisés augmentent (influent sur) la réparabilité d'un objet : _____

- la durée de disponibilité et le délai de livraison des pièces détachées augmentent (influent sur) la réparabilité d'un objet : _____

- le rapport entre le prix des pièces détachées et le prix de l'objet neuf augmente (influe sur) la réparabilité d'un objet : _____

4- A l'aide de la fiche d'information du calcul de l'indice de réparabilité, reporter ci-contre les notes /20 des différents critères

5- Calculer et reporter l'indice de réparabilité ainsi obtenu /10

6- Reporter au bon endroit (à la bonne couleur) l'indice de réparabilité ainsi obtenu

7- Animer les éléments de la question 4 pour présentation à l'oral



Bosch WAX32M0IFF

↓ Télécharger le tableau des paramètres

Cet appareil obtient la note de /10

Documentation: /20



Démontabilité: /20



Disponibilité des pièces: /20



Prix des pièces: /20



Critère spécifique: /20



 Bosch



ACADÉMIE
D'AMIENS

Liberté
Égalité
Fraternité

Question 6

Rouge :
0 à 1,9



Indice de réparabilité

Orange :
2 à 3,9



Indice de réparabilité

Jaune :
4 à 5,9



Indice de réparabilité

Vert clair :
6 à 7,9



Indice de réparabilité

Vert foncé :
8 à 10



Indice de réparabilité

Question 5

Question 4

Classe : _____ Grpe : _____

1- En recherchant sur internet (ou dans les documents ressources) indique « à quoi sert l'indice réparabilité » : _____

2- En recherchant sur internet (ou dans les documents ressources) indique quelles catégories d'appareils sont concernées par l'indice de réparabilité : _____

3- En recherchant sur internet (ou dans les documents ressources) explique pourquoi (en quoi) :

- la durée de disponibilité de la documentation technique, d'utilisation et d'entretien augmente (influe sur) la réparabilité d'un objet : _____

- la durée de démontabilité, l'accès, le type d'outils et de fixations utilisés augmentent (influent sur) la réparabilité d'un objet : _____

- la durée de disponibilité et le délai de livraison des pièces détachées augmentent (influent sur) la réparabilité d'un objet : _____

- la rapport entre le prix des pièces détachées et le prix de l'objet neuf augmente (influe sur) la réparabilité d'un objet : _____

4- A l'aide de la fiche d'information du calcul de l'indice de réparabilité, reporter ci-contre les notes /20 des différents critères

5- Calculer et reporter l'indice de réparabilité ainsi obtenu /10

6- Reporter au bon endroit (à la bonne couleur) l'indice de réparabilité ainsi obtenu

7- Animer les éléments de la question 4 pour présentation à l'oral



Question 6

Rouge :
0 à 1,9

Indice de réparabilité

Orange :
2 à 3,9

Indice de réparabilité

Jaune :
4 à 5,9

Indice de réparabilité

Vert clair :
6 à 7,9


Indice de réparabilité

Vert foncé :
8 à 10

Indice de réparabilité

BEKO VRR80214VB

Télécharger le tableau des paramètres

Cet appareil obtient la note de /10Documentation: /20Démontabilité: /20Disponibilité des pièces: /20Prix des pièces: /20Critère spécifique: /20
ACADÉMIE
D'AMIENSLiberté
Égalité
Fraternité

Question 4

Classe : _____ Grpe : _____

1- En recherchant sur internet (ou dans les documents ressources) indique « à quoi sert l'indice réparabilité » : _____

2- En recherchant sur internet (ou dans les documents ressources) indique quelles catégories d'appareils sont concernées par l'indice de réparabilité : _____

3- En recherchant sur internet (ou dans les documents ressources) explique pourquoi (en quoi) :

- la durée de disponibilité de la documentation technique, d'utilisation et d'entretien augmente (influe sur) la réparabilité d'un objet : _____

- la durée de démontabilité, l'accès, le type d'outils et de fixations utilisés augmentent (influent sur) la réparabilité d'un objet : _____

- la durée de disponibilité et le délai de livraison des pièces détachées augmentent (influent sur) la réparabilité d'un objet : _____

- la rapport entre le prix des pièces détachées et le prix de l'objet neuf augmente (influe sur) la réparabilité d'un objet : _____

4- A l'aide de la fiche d'information du calcul de l'indice de réparabilité, reporter ci-contre les notes /20 des différents critères

5- Calculer et reporter l'indice de réparabilité ainsi obtenu /10

6- Reporter au bon endroit (à la bonne couleur) l'indice de réparabilité ainsi obtenu

7- Animer les éléments de la question 4 pour présentation à l'oral



Question 6

Rouge :
0 à 1,9

Indice de réparabilité

Orange :
2 à 3,9

Indice de réparabilité

Jaune :
4 à 5,9

Indice de réparabilité

Vert clair :
6 à 7,9

Indice de réparabilité

Vert foncé :
8 à 10

Indice de réparabilité

CANDY CDCP 6

Question 5

↓ Télécharger le tableau des paramètres

Cet appareil obtient la note de /10Documentation: /20Démontabilité: /20Disponibilité des pièces: /20Prix des pièces: /20Critère spécifique: /20

CANDY

Question 4

ACADÉMIE
D'AMIENSLiberté
Égalité
Fraternité

Classe : _____ Grpe : _____

1- En recherchant sur internet (ou dans les documents ressources) indique « à quoi sert l'indice réparabilité » : _____

2- En recherchant sur internet (ou dans les documents ressources) indique quelles catégories d'appareils sont concernées par l'indice de réparabilité : _____

3- En recherchant sur internet (ou dans les documents ressources) explique pourquoi (en quoi) :

- la durée de disponibilité de la documentation technique, d'utilisation et d'entretien augmente (influe sur) la réparabilité d'un objet : _____

- la durée de démontabilité, l'accès, le type d'outils et de fixations utilisés augmentent (influent sur) la réparabilité d'un objet : _____

- la durée de disponibilité et le délai de livraison des pièces détachées augmentent (influent sur) la réparabilité d'un objet : _____

- la rapport entre le prix des pièces détachées et le prix de l'objet neuf augmente (influe sur) la réparabilité d'un objet : _____

4- A l'aide de la fiche d'information du calcul de l'indice de réparabilité, reporter ci-contre les notes /20 des différents critères

5- Calculer et reporter l'indice de réparabilité ainsi obtenu /10

6- Reporter au bon endroit (à la bonne couleur) l'indice de réparabilité ainsi obtenu

7- Animer les éléments de la question 4 pour présentation à l'oral



Question 6

Rouge :
0 à 1,9

Indice de réparabilité

Orange :
2 à 3,9

Indice de réparabilité

Jaune :
4 à 5,9

Indice de réparabilité

Vert clair :
6 à 7,9

Indice de réparabilité

Vert foncé :
8 à 10

Indice de réparabilité

ACER Aspire A317-52-54QM Noir

Télécharger le tableau des paramètres

Cet appareil obtient la note de /10

Documentation: /20

Démontabilité: /20

Disponibilité des pièces: /20

Prix des pièces: /20

Critère spécifique: /20

CANDY

ACADÉMIE
D'AMIENSLiberté
Égalité
Fraternité

Question 5

Question 4

Classe : _____ Grpe : _____

1- En recherchant sur internet (ou dans les documents ressources) indique « à quoi sert l'indice réparabilité » : _____

2- En recherchant sur internet (ou dans les documents ressources) indique quelles catégories d'appareils sont concernées par l'indice de réparabilité : _____

3- En recherchant sur internet (ou dans les documents ressources) explique pourquoi (en quoi) :

- la durée de disponibilité de la documentation technique, d'utilisation et d'entretien augmente (influe sur) la réparabilité d'un objet : _____

- la durée de démontabilité, l'accès, le type d'outils et de fixations utilisés augmentent (influent sur) la réparabilité d'un objet : _____

- la durée de disponibilité et le délai de livraison des pièces détachées augmentent (influent sur) la réparabilité d'un objet : _____

- la rapport entre le prix des pièces détachées et le prix de l'objet neuf augmente (influe sur) la réparabilité d'un objet : _____

4- A l'aide de la fiche d'information du calcul de l'indice de réparabilité, reporter ci-contre les notes /20 des différents critères

5- Calculer et reporter l'indice de réparabilité ainsi obtenu /10

6- Reporter au bon endroit (à la bonne couleur) l'indice de réparabilité ainsi obtenu

7- Animer les éléments de la question 4 pour présentation à l'oral



Crosscall Core-X5

Télécharger le tableau des paramètres

Cet appareil obtient la note de /10


Documentation: /20

Démontabilité: /20

Disponibilité des pièces: /20

Prix des pièces: /20

Critère spécifique: /20



ACADÉMIE
D'AMIENS

Liberté
Égalité
Fraternité

Classe : _____ Grpe : _____

Question 6

Rouge :
0 à 1,9



Indice de réparabilité

Orange :
2 à 3,9



Indice de réparabilité

Jaune :
4 à 5,9



Indice de réparabilité

Vert clair :
6 à 7,9



Indice de réparabilité

Vert foncé :
8 à 10



Indice de réparabilité

Question 5

Question 4